

« L'école à la maison » : Jeudi 14 mai – CE2 (correction)

Calcul posé :

Pose et calcule ces opérations sur ton cahier.

$25\ 369 + 2\ 574 = 27\ 943$

$36\ 521 - 369 = 36\ 152$

$215 \times 39 = 8\ 385$

Dictée :

Autrefois, les mineurs du nord faisaient un travail pénible. Les industries réclamaient une grosse production de charbon. Le mineur avait pratiquement une vie d'esclave. Il dormait peu et ne voyait la lueur du soleil et le bleu du ciel que trop rarement.

Lecture/Ecriture :

Relis les poèmes p. 238-239 de ton manuel de français *Caribou*, puis réponds aux questions « J'écris » p.239, sur ton cahier

Ex 1 :

La croisée est fermée, il pleut

Comme minutieusement,

A grand bruit et tout-à-coup,

Sur le jardin frais et dormant.

Ex 2 :

Lorsque la pluie nous quitte,

Elle prend au plus vite

Sa boîte d'aquarelle

Pour laisser dans le ciel

Son message d'adieu.

Vocabulaire : Les contraires

Relis bien la leçon V5 partie vocabulaire.

Fais les exercices suivants de ton manuel de Français, Caribou.

Ex 2p.134 :

Le début / la fin (noms)

Ouvrir / fermer (verbes)

Rapide / lent (adjectif)

La joie / la peine (noms)

Solide / fragile (adjectif)

Acheter / vendre (verbes)

Ex 3 p.134 :

Un ami / un ennemi ; loin / près ; humide / sec ; à gauche / à droite ; retirer / ajouter

Ex 4 p134 :

Cette tour est très **basse** !

C'est un **vieil** homme maintenant.

Il est **permis / autorisé** d'entrer ici.

Il faut **toujours** lui en parler.


Allons **dehors**, nous serons plus à l'aise.

Géométrie : Le cercle / Utilisation du compas






- Tu peux maintenant faire les exercices suivants sur ton cahier :

- 1) C'est la fléchette jaune si tu utilises sur les pointillés / C'est la rouge si tu prends la pointe de la fléchette.
- 2) C'est qui Scoat a réalisé la meilleure performance.

1 Quelle fléchette est la plus près du centre de la cible ?
Utilise ton compas pour le savoir.



2 Lors des *Jeux olympiques des fourmis* qui de Scoat, Souco ou Swin a réalisé la meilleure performance au « lancer d'épine de figue de barbarie » ?
Utilise ton compas pour le savoir.

 Scoat	
 Souco	
 Swin	