








  *J'entoure dans le texte les données importantes.
Je colorie le bon signe de l'opération.*

- 1  Noé a 8 billes, son père lui achète un paquet de 12 billes.
♥ **Combien en a-t-il maintenant ?** + -
- 2  Max achète un livre à 5 € et un album à 8 €.
♥ **Combien va-t-il payer ?** + -
- 3  Marine a 8 €, elle achète un livre à 4 €.
♥ **Combien lui reste-t-il d'argent maintenant ?** + -
- 4  Timéo a 20 crayons dans sa trousse, il en donne 8 à son frère Matéo.
♥ **Combien reste-t-il de crayons à Timéo ?** + -
- 5  Dans la classe de Max il y a 25 élèves. 5 élèves sont absents aujourd'hui.
♥ **Combien y a-t-il d'élèves en classe ?** + -
- 6  Léa 7 billes et Noa a 12 billes.
♥ **Combien ont-elles de billes ensemble ?** + -
- 7  Dans le réfrigérateur il y avait 8 crèmes au chocolat. Lou mange 3 crèmes.
♥ **Combien reste-t-il de crèmes ?** + -

1     *J'entoure dans le texte ce que je vais dessiner,
je complète le dessin, puis je réponds.*

- 1 Jibril a un paquet de 9 images.
Il doit mettre 3 images dans chaque enveloppe.
♥ **Combien d'enveloppes lui faut-il ?**
♦
♣ *Il lui faut ____ enveloppes*
- 2 Dans une boîte, il y a déjà 7 billes.
Céline veut 12 billes dans la boîte.
♥ **Combien de billes Céline doit-elle ajouter dans la boîte ?**
♦
♣ *Céline doit ajouter ____ billes*
- 3 Dans un album, il y a 9 photos :
4 photos de Léna et des photos de Noah.
♥ **Combien y a-t-il de photos de Noah ?**
♦
♣ *Il y a ____ photos de Noah.*