



lundi mardi mercredi jeudi vendredi samedi dimanche



/ /



J'entoure dans le texte les données importantes.  
Je colorie le bon signe de l'opération .

1



Noé achète un ballon à 12 €, il avait 20 € dans son porte-monnaie.

♥ **Combien lui reste-t-il maintenant ?**

+

-

2



Dans le car de Max, il y avait 10 enfants. A l'arrêt suivant 4 enfants montent dans le car.

♥ **Combien d'enfants y a-t-il dans le car ?**

+

-

3




Marine a 8 €, sa mamie lui donne 10 € pour son anniversaire.

♥ **Combien d'argent a-t-elle maintenant ?**

+

-

4



Timéo a 12 €, son frère Matéo en a autant .

♥ **Combien d'argent ont-ils ensemble ?**

+

-

5




Léo a compté 20 merles dans l'arbre.  
7 merles s'envolent.

♥ **Combien en reste-t-il dans l'arbre ?**

+

-

6



Léa a apporté un paquet de 16 bonbons.  
Elle donne 5 bonbons à sa sœur Noa.

♥ **Combien Léa a-t-elle de bonbons maintenant ?**

+

-

7



Dans le car de Max, il y a 25 sièges.  
12 enfants sont déjà assis.

♥ **Combien reste-t-il de places libres ?**

+

-



### Sens des opérations

Représenter une situation.

Identifier l'opération.

Problèmes

Fiche n°

lundi mardi mercredi jeudi vendredi samedi dimanche




/ /

1



J'entoure dans le texte ce que je vais dessiner, je complète le dessin, puis je réponds.




Léna a un paquet de 12 images. Elle met autant d'images dans chacune des **2 enveloppes**.

♥ Combien d'images y aura-t-il par enveloppe ?



\* Il y aura \_\_\_ images

2



Il faut 12 billes dans le sac. Mathys a déjà mis **4 billes**.

♥ Combien en manque-t-il ?



\* Il manque \_\_\_ billes

3



Maman distribue 12 gâteaux à ses **3 enfants**.

♥ Combien vont-ils avoir de gâteaux chacun ?



\* Chaque enfant aura \_\_\_ gâteaux