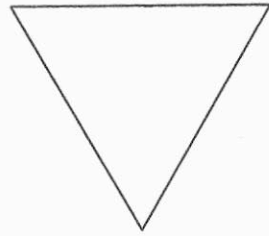


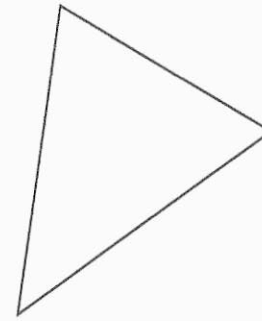
Je suis un triangle
rectangle.

Les côtés qui bordent
mon angle droit
mesurent 6,5 cm et 3
cm.



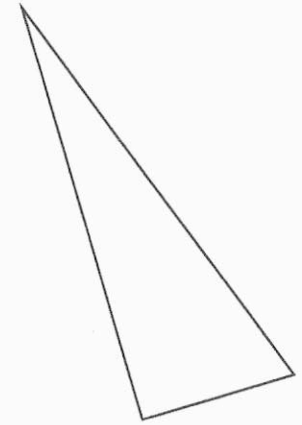
Je suis un triangle
isocèle.

Deux de mes côtés
mesurent 6,5 cm.



Je suis un triangle
isocèle.

Un seul de mes côtés
mesure 7 cm.



Je suis un triangle
équilatéral de 6 cm
de côté.

Je suis un triangle **quelconque**.

Le plus grand de mes côtés mesure 10,1 cm.

Je suis un triangle **équilatéral** de 4,7 cm de côté.

Je suis un triangle **quelconque**.

Mon plus petit côté mesure 1,6 cm.

Je suis un triangle **rectangle**.

Mon plus grand côté mesure 8,5 cm.

Je suis un triangle **quelconque**.

Mon côté intermédiaire (ni le plus grand, ni le plus petit) mesure 8,9 cm.

Je suis un triangle **équilatéral**.

Mon côté mesure 3,7 cm.

Je suis un triangle **isocèle**.

Si on additionne mes côtés égaux, on trouve 8,8 cm.

Je suis un triangle **rectangle**.

Mes deux plus grands côtés mesurent respectivement 6,5 cm et 6,1 cm.