






Colorie la bonne réponse pour chaque carte.


 la moitié de 4			
1	2	3	4


 la moitié de 10			
4	6	7	5


 la moitié de 16			
8	6	9	10


 la moitié de 6			
1	2	3	4


 la moitié de 12			
4	6	7	5


 la moitié de 18			
8	6	9	10


 la moitié de 8			
1	2	3	4


 la moitié de 14			
4	6	7	5


 la moitié de 20			
8	6	9	10


 la moitié de 30			
10	15	20	13


 la moitié de 60			
10	15	20	30


 la moitié de 90			
30	35	40	45


 la moitié de 40			
10	15	20	30


 la moitié de 70			
30	35	40	45

 la moitié de 100			
70	60	50	40

 la moitié de 50			
10	15	20	25

 la moitié de 80			
30	35	40	45

 la moitié de 110			
55	65	75	85



La moitié, c'est lorsqu'on « coupe » le nombre en deux . C'est **deux fois moins**.

Pour trouver la moitié d'un nombre, on partage ce nombre en deux.

La moitié de **6** est 3, car  $3 + 3 = 6$

La moitié de 2 c'est .....

La moitié de 20 c'est .....

La moitié de 4 c'est .....

La moitié de 30 c'est .....

La moitié de 6 c'est .....

La moitié de 40 c'est .....

La moitié de 8 c'est .....

La moitié de 50 c'est .....

La moitié de 10 c'est .....

La moitié de 60 c'est .....

La moitié de 12 c'est .....

La moitié de 80 c'est .....

La moitié de 14 c'est .....


La moitié de 100 c'est .....

La moitié de 16 c'est .....

La moitié de 200 c'est .....

La moitié de 18 c'est .....

Dessine les billets et les pièces dans le porte-monnaie et indique la somme d'argent que j'ai.  
Puis entoure la bonne réponse



trois billets de 20€, deux billets de 5€,  
deux pièces de 1€, deux de pièces de 2€


Dans mon porte-monnaie, j'ai .....€.

Est-ce que j'ai assez pour acheter une lampe qui  
côte 82€ ?

 oui

 non

Dessine les billets et les pièces dans le porte-monnaie et indique la somme d'argent que j'ai.  
Puis réponds à la question.



un billet de 20€, deux billets de 10€, deux  
billets de 5€, trois pièces de 2€

Dans mon porte-monnaie, j'ai .....€.

Est-ce que j'ai assez pour acheter une chaise  
qui coûte 58€ ?

 oui

 non

numéro du problème	Ce que j'achète et son prix	ce que je donne à la vendeuse	ce que la vendeuse doit me rendre
1	un pull à 27 €	un billet de 20€ et un billet de 10€	
2	un cahier à 3€	un billet de 10 €	
3	deux crayons à 6 €	un billet de 10€	
4	un livre à 13€	un billet de 20€	
5	un manteau à 38€	un billet de 50€	

Pour exprimer les longueurs, on peut utiliser :


-le ..... (taille d'un insecte, longueur d'un crayon, taille d'une gomme, longueur d'une trousse)

-le ..... (hauteur de la porte, longueur de la cour de récréation, longueur d'un camion, hauteur d'une maison)

**1 mètre = 100 centimètres** (= la règle jaune de la maîtresse)

Entreprène-toi!

Colorie la bonne réponse.



1 m    10m    50m

M= Mètre




100m    500m    15m



10m    1m    40m



200m    5m    30m



1m    4m    20m



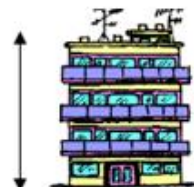
1m    6m    25m



50m    10m    2m



5m    2m    1000m



3m    1000m    25m



10m    2m    90m