

Lundi 15 juin 2020 – ce2

Anglais

Cherche l'étiquette de lundi en anglais.

Dis à tes parents quel jour nous sommes en anglais, ainsi que le jour d'hier et de demain.

Dis à tes parents le temps qu'il fait aujourd'hui en t'aidant des étiquettes

Calculs posés

$$145\ 365 + 4\ 758$$

$$405\ 368 - 3\ 845$$

$$1\ 547 \times 49$$

Ecrire comme un écrivain...

Raconte-moi ton weekend en 5 phrases. Ecris tes verbes à l'imparfait.

fluence

lire une minute son texte

Dictée : liste 28

Ecris dans ton cahier la dictée

Copie

- 1) Lis le texte

Vendredi, nous avons diné chez William et Valentine. Ils habitent à Moulins-sur-Yèvre en France. Toute la soirée, nous avons bien rigolé. Ils partiront bientôt faire un voyage aux Etats-Unis. Ils visiteront New-York et Washington. C'est un pays très grand. Ils n'auront pas le temps d'aller à Las Vegas pour jouer dans les casinos !

- 2) Entoure en rouge les majuscule et se rappeler la formation
- 3) **Installe-toi bien et tiens bien ton crayon** : Copier 10 minutes : Il faut copier vite et bien.


Lecture


- 1) Relis le texte de vendredi « une radio dans le ventre »
- 2) Nous avons trouvé 5 personnages dans ce texte. Choisis une couleur par personnage et colorie ce qu'il dit. Vérifie ensuite la correction.

Calcul mental : le quadruple et le quart


- 1) Lis ta leçon sur le quadruple et le quart puis complète-la
- 2) Fais ces exercices


Colorie la bonne réponse.

	le quadruple de 7		
14	35	21	28


	le quadruple de 10		
14	20	40	30


	le quadruple de 400		
1200	900	1600	1400


	le quadruple de 8		
32	24	16	28


	le quadruple de 20		
80	60	100	40


	le quadruple de 500		
1500	2500	3000	2000

	le quadruple de 9		
18	36	38	27


	le quadruple de 30		
140	90	150	120


	le quadruple de 600		
2300	2200	2400	2100

	le quadruple de 40		
140	110	120	160


	le quadruple de 70		
140	210	260	280


	le quadruple de 100		
200	300	400	500

	le quadruple de 50		
150	200	180	220

	le quadruple de 80		
300	320	340	360

	le quadruple de 200		
400	600	800	1000

	le quadruple de 60		
240	260	220	210

	le quadruple de 90		
380	350	400	360

	le quadruple de 300		
1200	900	1600	1400

Conjugaison : imparfait : aller, faire, voir, dire

- 1) Exercices 6 et 7 p 141 dans le manuel « caribou »
- 2) Sur ton ardoise, essaie de conjuguer les verbes « aller » et « dire à l'imparfait »
- 3) Vérifie avec ta leçon et apprends ces verbes
- 4) Sur ton ardoise, essaie de conjuguer les verbes « voir » et « faire »
- 5) Vérifie avec ta leçon et apprends-les
- 6) Entraîne-toi sur ton ardoise
- 7) Fais ces exercices

3 * Relie chaque sujet au verbe qui convient.

je ●	● voyais
les bus ●	● allaient
tu ●	● faisions
nous ●	● disais

5 * Écris les phrases à l'imparfait.

- a. Je fais semblant de dormir.
- b. Il va au foot.
- c. Ils font leurs devoirs.
- d. Tu revois tes amis.

6 ** Conjugue chaque verbe à l'imparfait.

voir → je voyais

- | | |
|-------------------|--------------------|
| a. aller → tu ... | c. dire → nous ... |
| b. faire → on ... | d. voir → vous ... |

7 ** Réécris les phrases avec le pronom indiqué.

- a. Elle ne voyait pas plus loin que le bout de son nez. (*ils*)
- b. Vous alliez trop vite dans le virage. (*nous*)
- c. Que faisais-tu hier ? (*vous*)
- d. Ils disaient la vérité. (*on*)

8 ** Complète chaque phrase avec un verbe de la liste conjugué à l'imparfait. aller ♦ voir ♦ faire ♦ dire

- a. Nous ... régulièrement au cinéma jusqu'au jour où la salle a fermé.
- b. Je ... mes devoirs quand tu es arrivé.
- c. Jusqu'à six ans, il ... bien.
- d. Au Moyen Âge, les troubadours ... des poèmes.

Mathématiques : suite de nombres jusqu'à 999 999

Entraîne-toi sur le site : https://www.logicieleducatif.fr/index_numeration.php

Choisis toujours entre 1 et 999 999



Ecrire les nombres en chiffres



Ecrire les nombres en lettres



Encadrements de nombres