

Mardi 24 mars 2020 – ce1

correction

Rituel mathématiques

Calcule tes 3 opérations

$$\begin{array}{r} \overset{1}{1} \overset{1}{2} 3 \\ + 456 \\ + \underline{21} \\ 600 \end{array}$$

$$\begin{array}{r} 567 \\ - \underline{34} \\ 533 \end{array}$$

$$\begin{array}{r} \overset{1}{1} 2 4 \\ + 36 \\ + \underline{28} \\ 188 \end{array}$$

Calcul mental : compléments à 100

-revoir sa leçon num 8



















-s'entraîner sur son ardoise :

$40 + \dots = 100$

$45 + \dots = 100$ (je rajoute déjà pour aller à 50 puis à 100 $\rightarrow 5 + 50$)

-Faire son exercice

Colorie la bonne réponse sur chaque carte.

 10 + = 100 70 80 90 60	 40 + = 100 50 80 70 60	 45 + = 100 75 55 85 65
 20 + = 100 70 80 90 60	 50 + = 100 70 60 40 50	 55 + = 100 25 35 45 55
 30 + = 100 70 80 90 60	 60 + = 100 70 60 40 50	 65 + = 100 55 25 35 45
 70 + = 100 20 40 30 50	 15 + = 100 75 95 85 65	 75 + = 100 45 25 35 15
 80 + = 100 20 40 30 50	 25 + = 100 75 95 85 65	 85 + = 100 5 25 35 15
 90 + = 100 20 0 30 10	 35 + = 100 75 55 45 65	 95 + = 100 5 25 35 15

Copie : 10 min

1) Lire le texte

Nous sommes à la maison depuis plus d'une semaine. Chaque jour, la maîtresse nous envoie le travail. Généralement, ce n'est pas trop compliqué.

Sur le blog, il y a des petits défis. Il faut penser à regarder, les faire puis envoyer les photos à la maîtresse. Si j'ai des questions, je peux aussi lui envoyer un mail.

2) Entourer en rouge les majuscules et se rappeler la formation

3) Copier 10 minutes : Il faut copier vite et bien.

Dictée

Ecris dans ton cahier la dictée

Il y a du monde et du bruit sur le trottoir devant la grotte. C'est complet mais un garçon va offrir sa place à une dame.

Orthographe : lire et écrire le son [on]

1) Lis le texte et écris sur ton ardoise tous les mots dans lesquels tu entends le son [on]

Petit poisson !
Toi qui tournes en rond
Toi qui fais des bonds.
Quel est ton nom ?
Mais à quoi songes-tu donc ?
Tout au fond de ton lagon ?

Didon dina dit-on
De dix dindons dodus
Quelle gourmande !
Cette Didon !
Qui dort dine
Dit-on !

2) Repère comment s'écrit le son [on] → on ou om → m devant m, b, p

Attention : bonbon, nom, prénom

3) Entraîne-toi sur ce site : <https://www.ortholud.com/on-ou-om.html>

4) Dans ton cahier, fais l'exercice 5 p 99 du manuel « à portée de mots »

Papillon – boutons – tondent – gazon – poissons – compagnie – son - chaton

5) Corrige avec tes parents

Mathématiques : comparer les nombres jusqu'à 599

1) Dans ton cahier, fais ces exercices puis corrige-les avec tes parents.

2 Relie les étiquettes.

431	→	400 + 10 + 3
314	→	300 + 10 + 4
413	→	400 + 30 + 1

3 Relie les étiquettes.

307	→	300 + 70
137	→	100 + 30 + 7
370	→	300 + 7

5 Écris le nombre correspondant.

a. $400 + 50 + 3 = 453$

b. $100 + 30 + 7 = 137$

c. $200 + 40 + 1 = 241$

d. $300 + 90 + 2 = 392$

e. $500 + 80 + 4 = 584$

7 Écris le nombre correspondant.

a. $40 + 3 + 300 = 343$

b. $200 + 7 + 60 = 267$

c. $7 + 500 = 507$

d. $10 + 400 + 8 = 418$

e. $20 + 400 = 420$

6 Écris le nombre correspondant.

a. $200 + 30 + 6 = 236$

b. $100 + 30 = 130$

c. $400 + 3 = 403$

d. $500 + 80 = 580$

e. $300 + 80 + 4 = 384$

8 Décompose les nombres.

a. $344 = 300 + 40 + 4$

b. $507 = 500 + 7$

c. $270 = 200 + 70$

d. $89 = 80 + 9$

2) S'entraîner à comparer les nombres

- Ecrire sur son ardoise le plus grand nombre (jeu 1)
- Ecrire sur son ardoise le plus petit nombre (jeu 2)
- Ecrire sur son ardoise le bon signe (jeu 3)

3) Fais les exercices suivants puis corrige-les avec tes parents.

Je m'entraîne

1 Complète avec les signes < ou >.

a. $500 > 400$

$400 > 200$

$347 < 473$

c. $192 < 291$

$305 < 315$

$502 > 299$

b. $400 > 370$

$360 < 370$

$204 < 240$

d. $575 > 557$

$408 < 480$

$273 < 372$

2 PROBLÈME

Des enfants ont construit des robots. Paul a utilisé 203 pièces et Léa 230.

Entoure le prénom de celui qui a utilisé le plus de pièces.



3 PROBLÈME Entoure le nom de l'animal le plus lourd.



Panthère noire

80 kg



Tigre

250 kg



Poney

280 kg



Cheval

490 kg

6 Complète avec le signe < ou >.

a. $400 + 8 < 470$

b. $300 + 42 > 300 + 24$

c. $200 + 100 > 2d + 1d$

d. $45d > 405$

a) $408 < 470$

b) $342 > 324$

c) $300 > 30$

d) $450 > 405$

Copie : copier la suite de sa poésie

Dans ton cahier de poésie, copie la poésie « carnaval » .
Quand tu as terminé, relis-toi et vérifie qu'il n'y a pas d'erreur.

5c Le mardi fou

C'est Mardi Gras dans notre école,
Comme on s'amuse! Comme on rigole !!
Avec nos masques et nos grimaces
Dans le défilé qui passe.

Joues rouges, cheveux verts,
Pantalons lâches et chapeaux de paille,
Sur les enfants tout fiers
Qui se tortillent et qui piaillent !

Sifflets, flûtes et tam-tams
Cognent, roulent, secouent,
Pour fêter le jour fou
Que tout le monde acclame!

Comme on s'amuse! Comme on rigole !
Dans notre école !

Hoareau Jamy



Rappel :
-ne pas écrire ce qui est en vert
-un baton vert = aller à la ligne
-une vague verte = sauter une ligne