


Quel est le plus
petit nombre ? 

132 423 563 245

Quel est le plus
petit nombre ? 

523 321 148 295

Quel est le plus
petit nombre ? 

369 258 104 541

Quel est le plus
petit nombre ? 

174 285 471 396

Quel est le plus
petit nombre ? 

564 459 286 375

Quel est le plus
petit nombre ? 

245 95 412 318

Quel est le plus
petit nombre ? 

367 129 225 494

Quel est le plus
petit nombre ? 

548 246 74 108

Quel est le plus
petit nombre ? 

569 197 347 428

Quel est le plus
petit nombre ? 

247 574 412 111

Quel est le plus
petit nombre ? 

496 372 561 210

Quel est le plus
petit nombre ? 

176 348 503 442

Quel est le plus
petit nombre ? 

475 596 214 113

Quel est le plus
petit nombre ? 

210 64 348 469

Quel est le plus
petit nombre ? 

539 297 154 443

Quel est le plus
petit nombre ? 

242 161 375 426

Quel est le plus
petit nombre ? 

76 542 138 426

Quel est le plus
petit nombre ? 

241 397 574 498

Quel est le plus
petit nombre ? 

475 391 542 123

Quel est le plus
petit nombre ? 

249 384 57 503

Quel est le plus
petit nombre ?




365 298 342 512

Quel est le plus
petit nombre ?



298 125 245 101

Quel est le plus
petit nombre ?




108 429 67 159

Quel est le plus
petit nombre ?



554 563 425 159

Quel est le plus
petit nombre ?



236 485 542 214

Quel est le plus
petit nombre ?



369 258 159 245

Quel est le plus
petit nombre ?



548 256 123 191

Quel est le plus
petit nombre ?



274 364 159 134

Quel est le plus
petit nombre ?




125 164 197 130

Quel est le plus
petit nombre ?




248 205 261 290

Quel est le plus
petit nombre ?




391 139 319 193

Quel est le plus
petit nombre ?



554 509 591 542

Quel est le plus
petit nombre ?




412 436 259 123

Quel est le plus
petit nombre ?




436 265 341 220

Quel est le plus
petit nombre ?




487 439 410 401

Quel est le plus
petit nombre ?




542 136 425 489

Quel est le plus
petit nombre ?




415 365 362 302

Quel est le plus
petit nombre ?




594 165 172 92

Quel est le plus
petit nombre ?



149 136 542 510

Quel est le plus
petit nombre ?



429 438 462 94