

Mardi 7 avril 2020 – ce1

Anglais

Cherche l'étiquette de mardi en anglais.

Dis à tes parents quel jour nous sommes en anglais, ainsi que le jour d'hier et de demain.

Rituel mathématiques

Calcule tes 3 opérations

Calcul mental : révisions compléments à 100

-revois ta leçon de numération sur le nombre 100

-faire les exercices p 25 du fichier « je réussis mes calculs au ce1 »

Écriture

Installe-toi bien et tiens bien ton crayon.

S'entraîner à former la majuscule en repassant sur sa pochette : Q

Dans son cahier, faire une ligne avec la lettre puis les mots puis recopier les phrases.

Q Quentin

Quand Quisté va au bowling, toutes les squilles tombent.

Qu'est-ce que fait au Qatar ?

Dictée : listes 19 et 20

Ecris dans ton cahier la dictée

Pour jeudi : revoir les listes 20 et 21

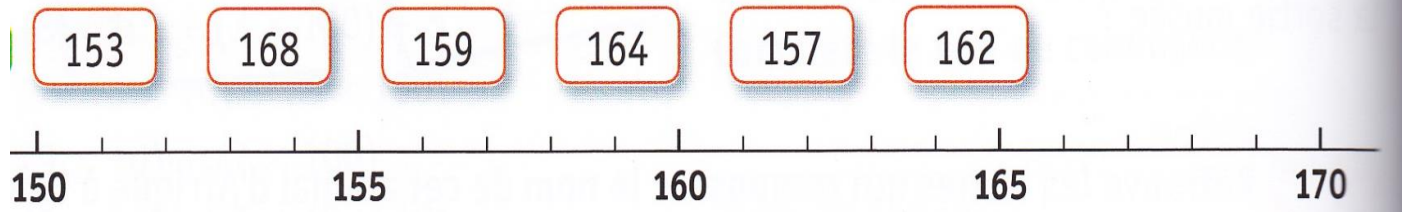
Orthographe : m devant m, b, p

- 1) Regarder cette vidéo : <https://lesfondamentaux.reseau-canope.fr/video/les-mots-ou-n-devient-m-devant-mpb.html>
- 2) Fais les exercices 5, 6 et 7 p 93 dans le manuel « à portée de mots ». Corrige après chaque exercice ;

Mathématiques : encadrer les nombres jusqu'à 599


- 1) Entraîne-toi, sur ton ardoise à encadrer les nombres à l'unité près (juste avant et juste après)
- 2) Fais tes exercices puis corrige-les

Place chaque nombre sur la droite graduée.




2 Place chaque nombre sur la droite graduée.

a. 199 185 189 182 193 197



b. 90 100 86 92 98 89



Encadre ces nombres à l'unité près.

.....< 258 <.....

.....< 198 <.....

.....< 146 <.....

.....< 369 <.....

.....< 279 <.....

.....< 287 <.....

.....< 147 <.....

.....< 540 <.....

.....< 341 <.....

.....< 123 <.....

.....< 360 <.....

.....< 480 <.....

.....< 456 <.....

.....< 472 <.....

.....< 340 <.....

.....< 568 <.....

.....< 590 <.....

.....< 500 <.....

.....< 249 <.....

.....< 330 <.....

.....< 300 <.....

.....< 361 <.....

.....< 470 <.....

.....< 100 <.....

.....< 520 <.....

.....< 259 <.....

.....< 200 <.....

.....< 142 <.....

.....< 509 <.....

.....< 251 <.....

- 3) Entraîne-toi, sur ton ardoise à encadrer les nombres à la dizaine près (on compte de 10 en 10)
- 4) Fais tes exercices puis corrige-les.

3 Place chaque nombre sur la droite graduée.

a. 80 120 90 40 170 130

b. 130 200 260 170 150 250

c. 125 182 237 143 212 199

Encadre ces nombres à la dizaine près.

- | | | |
|-------------------|-------------------|-------------------|
|< 258 <..... |< 198 <..... |< 116 <..... |
|< 369 <..... |< 279 <..... |< 287 <..... |
|< 147 <..... |< 580 <..... |< 321 <..... |
|< 123 <..... |< 300 <..... |< 440 <..... |
|< 416 <..... |< 472 <..... |< 330 <..... |
|< 538 <..... |< 590 <..... |< 500 <..... |

Sciences : le papillon

- Regarde cette vidéo : https://www.youtube.com/watch?v=DmXvoHd-d_I
- complète l'exercice « le papillon »

EPS

Amusez-vous bien... et filmez-vous si vous pouvez !

<https://view.genial.ly/5e745e51df57ff1026dfaff0>