

Mardi 7 avril 2020 – CP

correction

Anglais

Cherche l'étiquette de mardi en anglais. **Tuesday**

Dis à tes parents quel jour nous sommes en anglais. **Today it is Tuesday.**

Écriture

Installe-toi bien. Tiens bien ton crayon.

H - N - M













Hier, Nathan et Michel sont allés en Espagne.

Ne dis pas de bêtises devant Monique et Henri !





















Phonologie : jour 2 : révisions

1) Fais ces exercices

1 Coche la case quand tu entends les sons demandés

fr		vr		pl	
dr		tr		gl	
cr		pr		fl	
br		gr		cl	

2 Entoure le dessin si tu entends « au »

Entoure le dessin si tu entends « er, el, et »

Entoure le dessin si tu entends « er, ez »

2) Faire « jeu du bang » d'hier

3) Faire cet exercice (soit tu imprimes l'exercice, soit tu écris les mots dans ton cahier)

Branche – dragon / Clou – planche / Landau – autruche / Déchirez – grimpez / Coiffer – doucher / Aile – lait / Treize – reine / Volet – robinet

Calcul mental : ajouter 1, 2, 3

S'entraîner sur le site : <https://www.logicieleducatif.fr/math/calcul/tablesaddition.php>

-s'entraîner aux tables de 1, 2, 3

-faire son top chrono : le plus vite possible et sans compter sur les doigts

Top chrono

Tables d'addition de 1 à 3

$1 + 9 = 10$

$5 + 1 = 6$

$2 + 9 = 10$

$9 + 3 = 12$

$2 + 9 = 11$

$2 + 5 = 7$

$9 + 2 = 11$

$3 + 5 = 8$

$6 + 2 = 8$

$3 + 6 = 9$

$1 + 7 = 8$

$0 + 3 = 3$

$2 + 8 = 10$

$4 + 2 = 6$

$3 + 10 = 13$

$2 + 8 = 10$

$7 + 2 = 9$

$3 + 9 = 12$

$9 + 2 = 11$

$3 + 9 = 12$

Dcitée : liste 14

aussi - entre - méchant - assez - zéro

Tu es aussi méchant que moi.

Pour jeudi : apprends les mots de la liste 15

lecture

1) Lis la première phrase dans ta tête puis lis-la à tes parents et relie la phrase à la bonne image...



Taoki a un problème: rien ne lui va!

Le chaton grimpe sur le tronc de l'arbre.

Il part en roulant le long de la pente sous le regard d'Hugo.

Depuis trois jours le chaton va bien.

Les clients gloussent de rire. Ce n'est pas la gloire pour Taoki !

Vers les sommets, les pentes sont raides!

Il égare son bâton gauche et sa chaus-sure droite !

Le petit chaperon violet portait toujours un capuchon violet.

Il apporta un petit pot de crème à son grand-père.

Hugo dévale la pente et saute dans tous les sens.

Avec leur bonnet sur la tête, ils boivent du lait chaud.

Il habitait de l'autre côté d'une forêt de pommiers et de poigniers.

- 2) Lis silencieusement l'histoire de Taoki p 99 du manuel
- 3) Réponds aux questions de tes parents
 - Où sont-ils allés pour skier ? Ils sont dans les Alpes
 - Comment s'appelle l'endroit où ils ont installés leurs affaires, où ils dormiront. C'est un chalet.
 - Que faut-il faire avant d'aller skier ? Il faut s'habiller contre le froid.
 - Qui est le premier pendant les promenades. C'est Taoki.
 - Que font-ils le soir ? Taoki raconte des histoires.
- 4) Lis à haute voix l'histoire
- 5) Exercices 7 p 89 du fichier

★ 7 Numérote les phrases dans l'ordre de l'histoire.

..2...	Ensuite, c'est la folie sur les pistes avec les bosses et les chutes !
..4...	Pour finir, le soir, Taoki raconte des histoires de chez lui.
..3...	Puis Taoki donne le rythme de la marche vers les sommets.
..1...	Au début, il faut se vêtir contre le froid.

Mathématiques : décomposer les nombres jusqu'à 69

- 1) Fais cet exercice

Colorie d'une même couleur les différentes écritures du même nombre.

4 d et 5 u	cinquante-deux	10 + 10 + 10
3 dizaines	45 unités	
52	30	5 dizaines et 2 unités
	40 + 5	45

- 2) jeu du furet :
 - Dire les nombres de 1 à 69, en comptant de 1 en 1, en avançant
 - Dire les nombres de 69 à 1 en reculant
- 3) Montrer le nombre dicté par tes parents
- 4) Nommer la carte montrée par tes parents
- 5) Piocher une carte, nommer le nombre et le décomposer sur son ardoise

Exemple : $62 = 60 + 2$
 $= 10 + 10 + 10 + 10 + 10 + 10 + 2$

 $=$
 $= 6d \ 2u$

6) Faire les exercices

Colorie de la même couleur ce qui est identique:

63, soixante-trois, 64, soixante-quatre, soixante-sept, 60+7, soixante-huit, 60+5, 69, 60+3, 65, soixante-deux, 60+8, 66, 62, soixante-cinq, 60+9, soixante-six, 60+4, 60+6, 60+1, 61, soixante-neuf, soixante-et-un, 60+2, 68, 67.

$34 = 30 + 4$	$63 = \underline{60} + \underline{3}$	$52 = \underline{50} + \underline{2}$
$58 = \underline{50} + \underline{8}$	$61 = \underline{60} + \underline{1}$	$47 = \underline{40} + \underline{7}$
$37 = \underline{30} + \underline{7}$	$45 = \underline{40} + \underline{5}$	$64 = \underline{60} + \underline{4}$

2) Écris le nombre correspondant à chaque étiquette.

62, 47, 43, 15, 58, 61

3) Pour chaque nombre, colorie les dizaines et les unités.

65, 59, 68

2) Complète.



$$10 + 10 + 10 + 10 + 10 + 8 = \underline{58}$$

$$10 + 10 + 10 + 10 + 10 + 10 + 5 = \underline{65}$$

$$3 + 10 + 10 + 10 + 10 + 10 + 10 = \underline{63}$$

$$50 + 2 = \underline{52}$$

$$60 + 7 = \underline{67}$$

$$9 + 40 = \underline{49}$$

$$8 + 60 = \underline{68}$$

Sciences : le papillon

-Regarde cette vidéo : https://www.youtube.com/watch?v=DmXvoHd-d_I

-complète l'exercice « le papillon »



Découpe les dessins et remplace l'histoire en ordre.

<p>oeufs</p>	<p>chenille</p>	<p>chrysalide (cocon)</p>	<p>papillon</p>
--------------	-----------------	-------------------------------	-----------------



EPS

Amusez-vous bien... et filmez-vous si vous pouvez !

<https://view.genial.ly/5e745e51df57ff1026dfaff0>