

2) Faire « jeu du bang » d'hier

3) Faire cet exercice (soit tu imprimes l'exercice, soit tu écris les mots dans ton cahier)

Écris les syllabes manquantes pour former des mots.

Calcul mental : ajouter 1, 2, 3

S'entraîner sur le site : <https://www.logicieleducatif.fr/math/calcul/tablesaddition.php>

-s'entraîner aux tables de 1, 2, 3

-faire son top chrono : le plus vite possible et sans compter sur les doigts



Top chrono

Tables d'addition de 1 à 3

$1 + 9 =$ _____	$5 + 1 =$ _____	$2 + 9 =$ _____	$9 + 3 =$ _____	$2 + 9 =$ _____
$2 + 5 =$ _____	$9 + 2 =$ _____	$3 + 5 =$ _____	$6 + 2 =$ _____	$3 + 6 =$ _____
$1 + 7 =$ _____	$0 + 3 =$ _____	$2 + 8 =$ _____	$4 + 2 =$ _____	$3 + 10 =$ _____
$2 + 8 =$ _____	$7 + 2 =$ _____	$3 + 9 =$ _____	$9 + 2 =$ _____	$3 + 9 =$ _____


Dictée : liste 14

Ecris dans ton cahier la dictée

Pour jeudi : apprends les mots de la liste 15

lecture

1) Lis la première phrase dans ta tête puis lis-la à tes parents et relie la phrase à la bonne image...



Taoki a un problème: rien ne lui va!

Le chaton grimpe sur le tronc de l'arbre.

Il part en roulant le long de la pente sous le regard d'Hugo.

Depuis trois jours le chaton va bien.

Les clients gloussent de rire. Ce n'est pas la gloire pour Taoki !

Vers les sommets, les pentes sont raides!

Il égare son bâton gauche et sa chaus-sure droite !

Le petit chaperon violet portait toujours un capuchon violet.

Il apporta un petit pot de crème à son grand-père.

Hugo dévale la pente et saute dans tous les sens.

Avec leur bonnet sur la tête, ils boivent du lait chaud.



Il habitait de l'autre côté d'une forêt de pommiers et de poiriers.

- 2) Lis silencieusement l'histoire de Taoki p 99 du manuel
- 3) Réponds aux questions de tes parents
- 4) Lis à haute voix l'histoire
- 5) Exercices 7 p 89 du fichier

Mathématiques : décomposer les nombres jusqu'à 69

1) Fais cet exercice

Colorie d'une même couleur les différentes écritures du même nombre.

4 d et 5 u	cinquante-deux	$10 + 10 + 10$
3 dizaines	45 unités	
52	30	5 dizaines et 2 unités
	$40 + 5$	45

2) jeu du furet :


- Dire les nombres de 1 à 69, en comptant de 1 en 1, en avançant
- Dire les nombres de 69 à 1 en reculant

3) Montrer le nombre dicté par tes parents

4) Nommer la carte montrée par tes parents

5) Piocher une carte, nommer le nombre et le décomposer sur son ardoise

Exemple : $62 = 60 + 2$
 $= 10 + 10 + 10 + 10 + 10 + 10 + 2$



=

= 6d 2u

6) Faire les exercices

Colorie de la même couleur ce qui est identique:

63 soixante-trois 64 soixante-quatre

soixante-sept 60+7 soixante-huit

60+5 69 60+3 65 soixante-deux 60+8 66 62







soixante-cinq 60+9 soixante-six 60+4 60+6


67 60+1 61 soixante-neuf soixante-et-un 60+2 68

Complète.

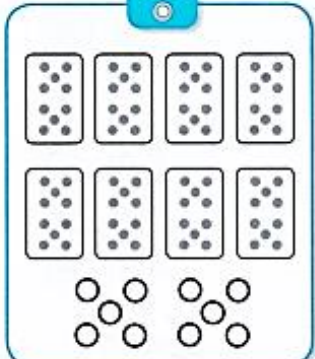
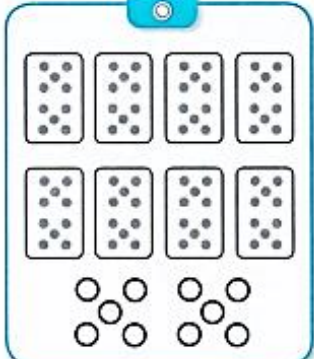
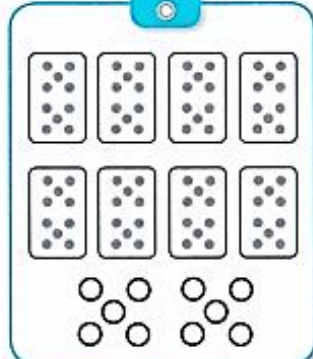
$34 = 30 + 4$	$63 = _ + _$	$52 = _ + _$
$58 = _ + _$	$61 = _ + _$	$47 = _ + _$
$37 = _ + _$	$45 = _ + _$	$64 = _ + _$

2 Écris le nombre correspondant à chaque étiquette.

	<input type="text"/>		<input type="text"/>
	<input type="text"/>		<input type="text"/>
	<input type="text"/>		<input type="text"/>



3 Pour chaque nombre, colorie les dizaines et les unités.

65	59	68
		

2) Complète.



$$10 + 10 + 10 + 10 + 10 + 8 = \underline{\quad}$$

$$10 + 10 + 10 + 10 + 10 + 10 + 5 = \underline{\quad}$$

$$3 + 10 + 10 + 10 + 10 + 10 + 10 = \underline{\quad}$$

$$50 + 2 = \underline{\quad}$$

$$60 + 7 = \underline{\quad}$$

$$9 + 40 = \underline{\quad}$$

$$8 + 60 = \underline{\quad}$$

Sciences : le papillon

- Regarde cette vidéo : https://www.youtube.com/watch?v=DmXvoHd-d_I
- complète l'exercice « le papillon »

EPS

Amusez-vous bien... et filmez-vous si vous pouvez !

<https://view.genial.ly/5e745e51df57ff1026dfaff0>