

Anglais

Cherche l'étiquette de vendredi en anglais. **Friday**
 Dis à tes parents quel jour nous sommes en anglais. **Today it is Friday.**
 Dis à tes parents le temps qu'il fait aujourd'hui en t'aidant des étiquettes

Écriture


Installe-toi bien. Tiens bien ton crayon.


K
S
U






















Un soir, Kathie et Sylvie étaient à Sens. Killian et Kévin font du camping


Phonologie : jour 2 ph
















1) Fais ces exercices

J'entends 

1  Colorie le dessin si tu entends « f »

2  Coche la case quand tu entends « f »

				
X		X	X	X
				
X			X	X
				
X	X	X	X	X


2) Lis silencieusement puis à haute voix :



un phoque - une photo - la phrase
les phares - le parapluie - les alphas
le pharaon - un éléphant - une poésie

3) Sur le site : <http://majoes.eklablog.com/activites-pour-la-cinquieme-periode-a129998808>
→ faire le son «ph»

4) Fais ces exercices

		
un phare	une pantoufle	un photographe
		
un éléphant	une pharmacie	un téléphone
		
une fourchette	un nénuphar	un pharaon

5 Complète les mots avec ph ou f.

- | | |
|-----------------------------------------|--------------------------------------------|
| • le café → la ca <u>f</u> etière | • la photocopie → la <u>ph</u> otocopieuse |
| • la géographie → le géogra <u>ph</u> e | • l'éléphant → l'élé <u>ph</u> anteau |
| • la girafe → le gira <u>f</u> on | • la fourmi → la <u>f</u> ourmilière |

6 Devinettes. Attention ! le son **f** s'écrit **ph**.

- J'éclaire les bateaux dans la nuit. Je suis un phare.
- Je finis par un point. Je suis une phrase.
- Quand je sonne, tu dis : « Allô ? » Je suis le téléphone.

Calcul mental : ajouter 5

S'entraîner sur le site : <https://www.logicieleducatif.fr/math/calcul/tablesaddition.php>

-s'entraîner à la table de 5

-faire son top chrono : le plus vite possible et sans compter sur les doigts



Top chrono

Table d'addition de 5

$5 + 7 = 12$

$1 + 5 = 6$

$5 + 5 = 10$

$9 + 5 = 14$

$5 + 4 = 9$

$5 + 6 = 11$

$9 + 5 = 14$

$5 + 8 = 13$

$3 + 5 = 8$

$5 + 9 = 14$

$5 + 9 = 14$

$6 + 5 = 11$

$5 + 8 = 13$

$10 + 5 = 15$

$5 + 0 = 5$

$5 + 1 = 6$

$0 + 5 = 5$

$5 + 6 = 11$

$9 + 5 = 14$

$5 + 0 = 5$

Dictée : liste 21

Elle a **toujours un** vélo. Elle a **deux** bols, **alors** elle en range **un**.

Pour lundi : apprendre les mots de la liste 22

lecture

- 1) Lis les phrases p 123 du manuel
- 2) Sur des étiquettes, écrit les mots, remets-les dans le bon ordre puis recopie chaque phrase.

8 Remets les mots dans l'ordre pour écrire la phrase.

cœur. - connaît - l' - par - Philippine - alphabet

Philippine connaît l'alphabet par cœur.

- 3) Lis silencieusement l'histoire de Taoki p 123 du manuel
- 4) Réponds aux questions de tes parents
- 5) Lis à haute voix l'histoire
- 6) Fais ces exercices

Je comprends l'histoire de Taoki

9 Relie les phrases au bon dessin.

Il a de puissantes lumières.

Il est sur une île.

Ils suivent le bateau.

Ils ont un aileron sur le dos.



10 Coche la bonne case.

	Vrai	Faux
Lili écrit à ses parents.		<input checked="" type="checkbox"/>
Le bateau passe à côté d'un phare.	<input checked="" type="checkbox"/>	
Des baleines suivent le bateau.		<input checked="" type="checkbox"/>
Hugo prend des photographies.	<input checked="" type="checkbox"/>	

★ 11 Écris une phrase pour répondre à la question.

À qui cette lettre est-elle adressée ?

Cette lettre est adressée aux parents de Hugo.

★ 12 Écris quelques phrases pour décrire l'image.



Envoie moi tes phrases

Mathématiques : ajouter 6 et additions

-essayer de compléter la table d'addition de 6 sur son ardoise

-vérifie avec ta leçon et l'apprendre

-S'entraîner sur le site : <https://www.logicieleducatif.fr/math/calcul/tablesaddition.php>: la table de 6

Calcule puis corrige.

$\begin{array}{r} 50 \\ + 23 \\ \hline 73 \end{array}$	$\begin{array}{r} 68 \\ + 31 \\ \hline 99 \end{array}$	$\begin{array}{r} 23 \\ + 56 \\ \hline 79 \end{array}$
$\begin{array}{r} 46 \\ + 23 \\ \hline 69 \end{array}$	$\begin{array}{r} 31 \\ + 25 \\ \hline 56 \end{array}$	$\begin{array}{r} 14 \\ + 75 \\ \hline 89 \end{array}$
$\begin{array}{r} 65 \\ + 33 \\ \hline 98 \end{array}$	$\begin{array}{r} 35 \\ + 63 \\ \hline 98 \end{array}$	$\begin{array}{r} 32 \\ + 47 \\ \hline 79 \end{array}$
$\begin{array}{r} 16 \\ + 23 \\ \hline 39 \end{array}$	$\begin{array}{r} 46 \\ + 32 \\ \hline 78 \end{array}$	$\begin{array}{r} 27 \\ + 21 \\ \hline 48 \end{array}$
$\begin{array}{r} 14 \\ + 55 \\ \hline 69 \end{array}$	$\begin{array}{r} 35 \\ + 4 \\ \hline 39 \end{array}$	$\begin{array}{r} 34 \\ + 61 \\ \hline 95 \end{array}$
$\begin{array}{r} 73 \\ + 11 \\ \hline 84 \end{array}$	$\begin{array}{r} 76 \\ + 12 \\ \hline 88 \end{array}$	$\begin{array}{r} 62 \\ + 5 \\ \hline 67 \end{array}$
$\begin{array}{r} 72 \\ + 27 \\ \hline 99 \end{array}$	$\begin{array}{r} 26 \\ + 63 \\ \hline 89 \end{array}$	$\begin{array}{r} 53 \\ + 42 \\ \hline 95 \end{array}$
$\begin{array}{r} 11 \\ + 12 \\ \hline 23 \end{array}$	$\begin{array}{r} 53 \\ + 32 \\ \hline 85 \end{array}$	$\begin{array}{r} 67 \\ + 12 \\ \hline 79 \end{array}$
$\begin{array}{r} 31 \\ + 68 \\ \hline 99 \end{array}$	$\begin{array}{r} 74 \\ + 23 \\ \hline 97 \end{array}$	$\begin{array}{r} 61 \\ + 7 \\ \hline 68 \end{array}$

$\begin{array}{r} 25 \\ + 53 \\ \hline 78 \end{array}$	$\begin{array}{r} 33 \\ + 14 \\ \hline 47 \end{array}$	$\begin{array}{r} 82 \\ + 14 \\ \hline 96 \end{array}$
$\begin{array}{r} 42 \\ + 37 \\ \hline 79 \end{array}$	$\begin{array}{r} 42 \\ + 56 \\ \hline 98 \end{array}$	$\begin{array}{r} 34 \\ + 72 \\ \hline 106 \end{array}$
$\begin{array}{r} 27 \\ + 61 \\ \hline 88 \end{array}$	$\begin{array}{r} 78 \\ + 61 \\ \hline 139 \end{array}$	$\begin{array}{r} 71 \\ + 15 \\ \hline 86 \end{array}$
$\begin{array}{r} 75 \\ + 44 \\ \hline 119 \end{array}$	$\begin{array}{r} 53 \\ + 55 \\ \hline 108 \end{array}$	$\begin{array}{r} 81 \\ + 15 \\ \hline 96 \end{array}$
$\begin{array}{r} 61 \\ + 74 \\ \hline 135 \end{array}$	$\begin{array}{r} 31 \\ + 37 \\ \hline 68 \end{array}$	$\begin{array}{r} 50 \\ + 29 \\ \hline 79 \end{array}$
$\begin{array}{r} 32 \\ + 83 \\ \hline 115 \end{array}$	$\begin{array}{r} 62 \\ + 3 \\ \hline 65 \end{array}$	$\begin{array}{r} 21 \\ + 17 \\ \hline 38 \end{array}$
$\begin{array}{r} 84 \\ + 11 \\ \hline 95 \end{array}$	$\begin{array}{r} 85 \\ + 4 \\ \hline 89 \end{array}$	$\begin{array}{r} 45 \\ + 33 \\ \hline 78 \end{array}$
$\begin{array}{r} 61 \\ + 42 \\ \hline 103 \end{array}$	$\begin{array}{r} 51 \\ + 27 \\ \hline 78 \end{array}$	$\begin{array}{r} 32 \\ + 27 \\ \hline 59 \end{array}$
$\begin{array}{r} 19 \\ + 20 \\ \hline 39 \end{array}$	$\begin{array}{r} 24 \\ + 74 \\ \hline 98 \end{array}$	$\begin{array}{r} 32 \\ + 40 \\ \hline 72 \end{array}$