

Anglais

Cherche l'étiquette de vendredi en anglais.

Dis à tes parents quel jour nous sommes en anglais.

Dis à tes parents le temps qu'il fait aujourd'hui en t'aidant des étiquettes

Écriture



Installe-toi bien. Tiens bien ton crayon.






















K
S
U


Un soir, Kathie et Sylvie étaient à Sens. Killian et Kévin font du camping

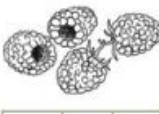














Phonologie : jour 2 ph

1) Fais ces exercices

1  **Colorie le dessin si tu entends « f »** *J'entends* 

2  **Coche la case quand tu entends « f »**

				
<input type="checkbox"/>	<input type="checkbox"/>	<input type="checkbox"/>	<input type="checkbox"/>	<input type="checkbox"/>
				
<input type="checkbox"/>	<input type="checkbox"/>	<input type="checkbox"/>	<input type="checkbox"/>	<input type="checkbox"/>
				
<input type="checkbox"/>	<input type="checkbox"/>	<input type="checkbox"/>	<input type="checkbox"/>	<input type="checkbox"/>

2) Lis silencieusement puis à haute voix :




un phoque - une photo - la phrase
les phares - le parapluie - les alphas
le pharaon - un éléphant - une poésie

3) Sur le site : <http://majoes.eklablog.com/activites-pour-la-cinquieme-periode-a129998808>
→ faire le son «ph»

4) Fais ces exercices

Lis et écris le mot correspondant à chaque image. Gare aux intrus !


un phare
un coffre
un nénuphar
une framboise
une pantoufle



un pharaon
un éléphant
une phrase
une cafetière
une fourchette



une pharmacie
un photographe
un téléphone
un phacochère
une falaise



5 Complète les mots avec **ph** ou **f**.

- le café → la ca_____etière
- la géographie → le géogra_____e
- la girafe → le gira_____on
- la photocopie → la _____otocopieuse
- l'éléphant → l'élé_____anteau
- la fourmi → la _____ourmilière

6 Devinettes. Attention ! le son **f** s'écrit **ph**.

- J'éclaire les bateaux dans la nuit. Je suis un _____.
- Je finis par un point. Je suis une _____.
- Quand je sonne, tu dis : « Allô ? » Je suis le _____.

Calcul mental : ajouter 5

S'entraîner sur le site : <https://www.logicieleducatif.fr/math/calcul/tablesaddition.php>

-s'entraîner à la table de 5

-faire son top chrono : le plus vite possible et sans compter sur les doigts



Top chrono

Table d'addition de 5

$5 + 7 = \underline{\quad}$	$1 + 5 = \underline{\quad}$	$5 + 5 = \underline{\quad}$	$9 + 5 = \underline{\quad}$	$5 + 4 = \underline{\quad}$
$5 + 6 = \underline{\quad}$	$9 + 5 = \underline{\quad}$	$5 + 8 = \underline{\quad}$	$3 + 5 = \underline{\quad}$	$5 + 9 = \underline{\quad}$
$5 + 9 = \underline{\quad}$	$6 + 5 = \underline{\quad}$	$5 + 8 = \underline{\quad}$	$10 + 5 = \underline{\quad}$	$5 + 0 = \underline{\quad}$
$5 + 1 = \underline{\quad}$	$0 + 5 = \underline{\quad}$	$5 + 6 = \underline{\quad}$	$9 + 5 = \underline{\quad}$	$5 + 0 = \underline{\quad}$

Dictée : liste 21

Ecris dans ton cahier la dictée

Pour lundi : apprendre les mots de la liste 22

lecture

- 1) Lis les phrases p 123 du manuel
- 2) Sur des étiquettes, écrit les mots, remets-les dans le bon ordre puis recopie chaque phrase.

8 Remets les mots dans l'ordre pour écrire la phrase.

cœur. - connaît - l' - par - Philippine - alphabet

- 3) Lis silencieusement l'histoire de Taoki p 123 du manuel
- 4) Réponds aux questions de tes parents
- 5) Lis à haute voix l'histoire
- 6) Fais ces exercices

Je comprends l'histoire de Taoki

9 Relie les phrases au bon dessin.

Il a de puissantes lumières. •

Il est sur une île. •

Ils suivent le bateau. •

Ils ont un aileron sur le dos. •



10 Coche la bonne case.

	Vrai	Faux
Lili écrit à ses parents.		
Le bateau passe à côté d'un phare.		
Des baleines suivent le bateau.		
Hugo prend des photographies.		

★ 11 Écris une phrase pour répondre à la question.

À qui cette lettre est-elle adressée ?

Handwriting practice lines for writing an answer to the question above.

★ 12 Écris quelques phrases pour décrire l'image.



Handwriting practice lines for describing the image.

Mathématiques : ajouter 6 et additions

-essayer de compléter la table d'addition de 6 sur son ardoise

-vérifie avec ta leçon et l'apprendre

-S'entraîner sur le site : <https://www.logicieleducatif.fr/math/calcul/tablesaddition.php>: la table de 6

Calcule puis corrige.

$\begin{array}{r} 50 \\ + 23 \\ \hline \\ - - \end{array}$	$\begin{array}{r} 68 \\ + 31 \\ \hline \\ - - \end{array}$	$\begin{array}{r} 23 \\ + 56 \\ \hline \\ - - \end{array}$
$\begin{array}{r} 46 \\ + 23 \\ \hline \\ - - \end{array}$	$\begin{array}{r} 31 \\ + 25 \\ \hline \\ - - \end{array}$	$\begin{array}{r} 14 \\ + 75 \\ \hline \\ - - \end{array}$
$\begin{array}{r} 65 \\ + 33 \\ \hline \\ - - \end{array}$	$\begin{array}{r} 35 \\ + 63 \\ \hline \\ - - \end{array}$	$\begin{array}{r} 32 \\ + 47 \\ \hline \\ - - \end{array}$
$\begin{array}{r} 16 \\ + 23 \\ \hline \\ - - \end{array}$	$\begin{array}{r} 46 \\ + 32 \\ \hline \\ - - \end{array}$	$\begin{array}{r} 27 \\ + 21 \\ \hline \\ - - \end{array}$
$\begin{array}{r} 14 \\ + 55 \\ \hline \\ - - \end{array}$	$\begin{array}{r} 35 \\ + 4 \\ \hline \\ - - \end{array}$	$\begin{array}{r} 34 \\ + 61 \\ \hline \\ - - \end{array}$
$\begin{array}{r} 73 \\ + 11 \\ \hline \\ - - \end{array}$	$\begin{array}{r} 76 \\ + 12 \\ \hline \\ - - \end{array}$	$\begin{array}{r} 62 \\ + 5 \\ \hline \\ - - \end{array}$
$\begin{array}{r} 72 \\ + 27 \\ \hline \\ - - \end{array}$	$\begin{array}{r} 26 \\ + 63 \\ \hline \\ - - \end{array}$	$\begin{array}{r} 53 \\ + 42 \\ \hline \\ - - \end{array}$
$\begin{array}{r} 11 \\ + 12 \\ \hline \\ - - \end{array}$	$\begin{array}{r} 53 \\ + 32 \\ \hline \\ - - \end{array}$	$\begin{array}{r} 67 \\ + 12 \\ \hline \\ - - \end{array}$
$\begin{array}{r} 31 \\ + 68 \\ \hline \\ - - \end{array}$	$\begin{array}{r} 74 \\ + 23 \\ \hline \\ - - \end{array}$	$\begin{array}{r} 61 \\ + 7 \\ \hline \\ - - \end{array}$

$\begin{array}{r} 25 \\ + 53 \\ \hline \\ - - \end{array}$	$\begin{array}{r} 33 \\ + 14 \\ \hline \\ - - \end{array}$	$\begin{array}{r} 82 \\ + 14 \\ \hline \\ - - \end{array}$
$\begin{array}{r} 42 \\ + 37 \\ \hline \\ - - \end{array}$	$\begin{array}{r} 42 \\ + 56 \\ \hline \\ - - \end{array}$	$\begin{array}{r} 34 \\ + 72 \\ \hline \\ - - \end{array}$
$\begin{array}{r} 27 \\ + 61 \\ \hline \\ - - \end{array}$	$\begin{array}{r} 78 \\ + 61 \\ \hline \\ - - \end{array}$	$\begin{array}{r} 71 \\ + 15 \\ \hline \\ - - \end{array}$
$\begin{array}{r} 75 \\ + 44 \\ \hline \\ - - \end{array}$	$\begin{array}{r} 53 \\ + 55 \\ \hline \\ - - \end{array}$	$\begin{array}{r} 81 \\ + 15 \\ \hline \\ - - \end{array}$
$\begin{array}{r} 61 \\ + 74 \\ \hline \\ - - \end{array}$	$\begin{array}{r} 31 \\ + 37 \\ \hline \\ - - \end{array}$	$\begin{array}{r} 50 \\ + 29 \\ \hline \\ - - \end{array}$
$\begin{array}{r} 32 \\ + 83 \\ \hline \\ - - \end{array}$	$\begin{array}{r} 62 \\ + 3 \\ \hline \\ - - \end{array}$	$\begin{array}{r} 21 \\ + 17 \\ \hline \\ - - \end{array}$
$\begin{array}{r} 84 \\ + 11 \\ \hline \\ - - \end{array}$	$\begin{array}{r} 85 \\ + 4 \\ \hline \\ - - \end{array}$	$\begin{array}{r} 45 \\ + 33 \\ \hline \\ - - \end{array}$
$\begin{array}{r} 61 \\ + 42 \\ \hline \\ - - \end{array}$	$\begin{array}{r} 51 \\ + 27 \\ \hline \\ - - \end{array}$	$\begin{array}{r} 32 \\ + 27 \\ \hline \\ - - \end{array}$
$\begin{array}{r} 19 \\ + 20 \\ \hline \\ - - \end{array}$	$\begin{array}{r} 24 \\ + 74 \\ \hline \\ - - \end{array}$	$\begin{array}{r} 32 \\ + 40 \\ \hline \\ - - \end{array}$