

Anglais

Cherche l'étiquette de vendredi en anglais.

Dis à tes parents quel jour nous sommes en anglais.

Dis à tes parents le temps qu'il fait aujourd'hui en t'aidant des étiquettes

Écriture

Installe-toi bien. Tiens bien ton crayon.

X

Xavier aime jouer du xylophone.

Xénia part à Venise.

Calcul posé

Pose ces opérations dans ton cahier.

$$54 + 35$$

$$12 + 36$$


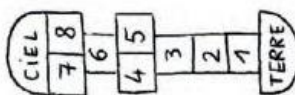
$$72 + 5$$

Phonologie : jour 1 : e = è

- 1) Observe et décris l'image p 126 du manuel Taoki
- 2) Réponds aux questions de tes parents.
- 3) Ecoute la phrase dite par tes parents et découvre le son d'aujourd'hui
- 4) Cherche dans les photos p 126 des mots avec le son
- 5) Fais cet exercice puis corrige-le.

J'entends _____

Colorie les dessins quand tu entends **è**.







- 6) Faire « l'exercice » p 126 dans le manuel de Taoki
- 7) Lis les syllabes et les mots page 127
- 8) Fais ces exercices puis corrige.

2 Colorie toutes les cases où le son  s'écrit **e**.

verte	le renard	le désert	la reine	chercher
un blaireau	le serveur	le renne	le tigre	une école
la maison	la baleine	le trésor	la dinette	belle
la maîtresse	le cheval	elle	l'haleine	une bête

3 Recopie les mots dans la bonne colonne.

une chandelle – demain – un cheval – une hirondelle –
un renard – un serpent – le miel – une chemise

 e et  e .	 e et  è .

4 Écris les mots sous les dessins.



la _____



du _____



une _____



une _____



des _____



une _____

5 Complète les phrases avec des mots en **ette**.

- Une petite fourche est une _____.
- Une petite boule est une _____.
- Une petite statue est une _____.

Calcul mental : ajouter 6

S'entraîner sur le site : <https://www.logicieleducatif.fr/math/calcul/tablesaddition.php>

-s'entraîner à la table de 6

-faire son top chrono : le plus vite possible et sans compter sur les doigts



Top chrono

Table d'addition de 6

$6 + 7 = \underline{\quad}$

$4 + 6 = \underline{\quad}$

$6 + 2 = \underline{\quad}$

$9 + 6 = \underline{\quad}$

$6 + 6 = \underline{\quad}$

$6 + 0 = \underline{\quad}$

$6 + 6 = \underline{\quad}$

$6 + 2 = \underline{\quad}$

$2 + 6 = \underline{\quad}$

$6 + 7 = \underline{\quad}$

$6 + 7 = \underline{\quad}$

$8 + 6 = \underline{\quad}$

$6 + 9 = \underline{\quad}$

$0 + 6 = \underline{\quad}$

$6 + 0 = \underline{\quad}$

$6 + 10 = \underline{\quad}$

$0 + 6 = \underline{\quad}$

$6 + 9 = \underline{\quad}$

$6 + 6 = \underline{\quad}$

$6 + 7 = \underline{\quad}$

Dictée : liste 23

Ecris dans ton cahier la dictée

Pour lundi : apprendre les mots de la liste 24

Mathématiques : ajouter 6 et additions

-essayer de compléter la table d'addition de 7 sur son ardoise

-vérifie avec ta leçon et l'apprendre

-S'entraîner sur le site : <https://www.logicieleducatif.fr/math/calcul/tablesaddition.php> la table de 7

Fais ces exercices puis corrige.

1 Pose et effectue les additions.

$$\begin{array}{r} 12 + 15 \\ \text{d} \quad \text{u} \\ 1 \quad 2 \\ + 1 \quad 5 \\ \hline \end{array}$$

$$\begin{array}{r} 21 + 17 \\ \text{d} \quad \text{u} \\ \dots \quad \dots \\ + \dots \quad \dots \\ \hline \end{array}$$

$$\begin{array}{r} 36 + 23 \\ \text{d} \quad \text{u} \\ \dots \quad \dots \\ + \dots \quad \dots \\ \hline \end{array}$$

$$\begin{array}{r} 42 + 14 \\ \text{d} \quad \text{u} \\ \dots \quad \dots \\ + \dots \quad \dots \\ \hline \end{array}$$

2 Pose et effectue les additions.

$$\begin{array}{r} 26 + 3 \\ \text{d} \quad \text{u} \\ \dots \quad \dots \\ + \dots \quad \dots \\ \hline \end{array}$$

$$\begin{array}{r} 54 + 10 \\ \text{d} \quad \text{u} \\ \dots \quad \dots \\ + \dots \quad \dots \\ \hline \end{array}$$

$$\begin{array}{r} 60 + 7 \\ \text{d} \quad \text{u} \\ \dots \quad \dots \\ + \dots \quad \dots \\ \hline \end{array}$$

Fais bien attention
à la couleur des
chiffres pour poser
les opérations.



1 Pose et effectue les additions.

$$\begin{array}{r} 13 + 24 \\ \text{d} \quad \text{u} \\ + \\ \hline \end{array}$$

$$\begin{array}{r} 30 + 24 \\ \text{d} \quad \text{u} \\ + \\ \hline \end{array}$$

$$\begin{array}{r} 3 + 46 \\ \text{d} \quad \text{u} \\ + \\ \hline \end{array}$$

$$\begin{array}{r} 51 + 7 \\ \text{d} \quad \text{u} \\ + \\ \hline \end{array}$$

$$\begin{array}{r} 15 + 14 \\ \text{d} \quad \text{u} \\ + \\ \hline \end{array}$$

2 Pose et effectue les additions.

$$\begin{array}{r} 31 + 17 \\ + \\ \hline \end{array}$$

$$\begin{array}{r} 5 + 43 \\ + \\ \hline \end{array}$$

$$\begin{array}{r} 28 + 40 \\ + \\ \hline \end{array}$$


$$\begin{array}{r} 52 + 6 \\ + \\ \hline \end{array}$$

$$\begin{array}{r} 20 + 35 \\ + \\ \hline \end{array}$$

*** Je lis le texte et je réponds aux questions.**

Le père Mathurin aime bien les animaux. Dans sa ferme il élève toutes sortes de bêtes qui se promènent un peu partout. Trente lapins se cachent sous le lit de sa chambre. Deux petits moutons sont coincés derrière le grand buffet du salon. Quatre petits canards pataugent dans la baignoire et deux dans le lavabo. Enfin, une douzaine de poules picorent quelques miettes sur la table de la cuisine.

*** J'écris le nom sous les animaux.**



*** Je complète le tableau**

animaux	nombre	lieu
		salle de bain
	douze	
mouton		
	trente	